

NOME: _____



DATA: ____/____/____



cantinhopedagogico.com

NOÇÕES MATEMÁTICAS - MAIOR E MENOR

PINTE O LÁPIS MAIOR E FAÇA UM X NO MENOR.



NOME: _____



DATA: ____/____/____



cantinhopedagogico.com

NOÇÕES MATEMÁTICAS - MAIOR E MENOR

CIRCULE O ANIMAL MAIOR E PINTE DE AZUL O ANIMAL MENOR.



NOME: _____

DATA: ____/____/____



cantinhopedagogico.com

NOÇÕES MATEMÁTICAS - MAIOR E MENOR

CIRCULE A ÁRVORE MENOR E PINTE A MAIOR COM A COR VERDE.

